

بلدرخت دانش، گام به گام پیشرفت خود را از زیاده کنید.

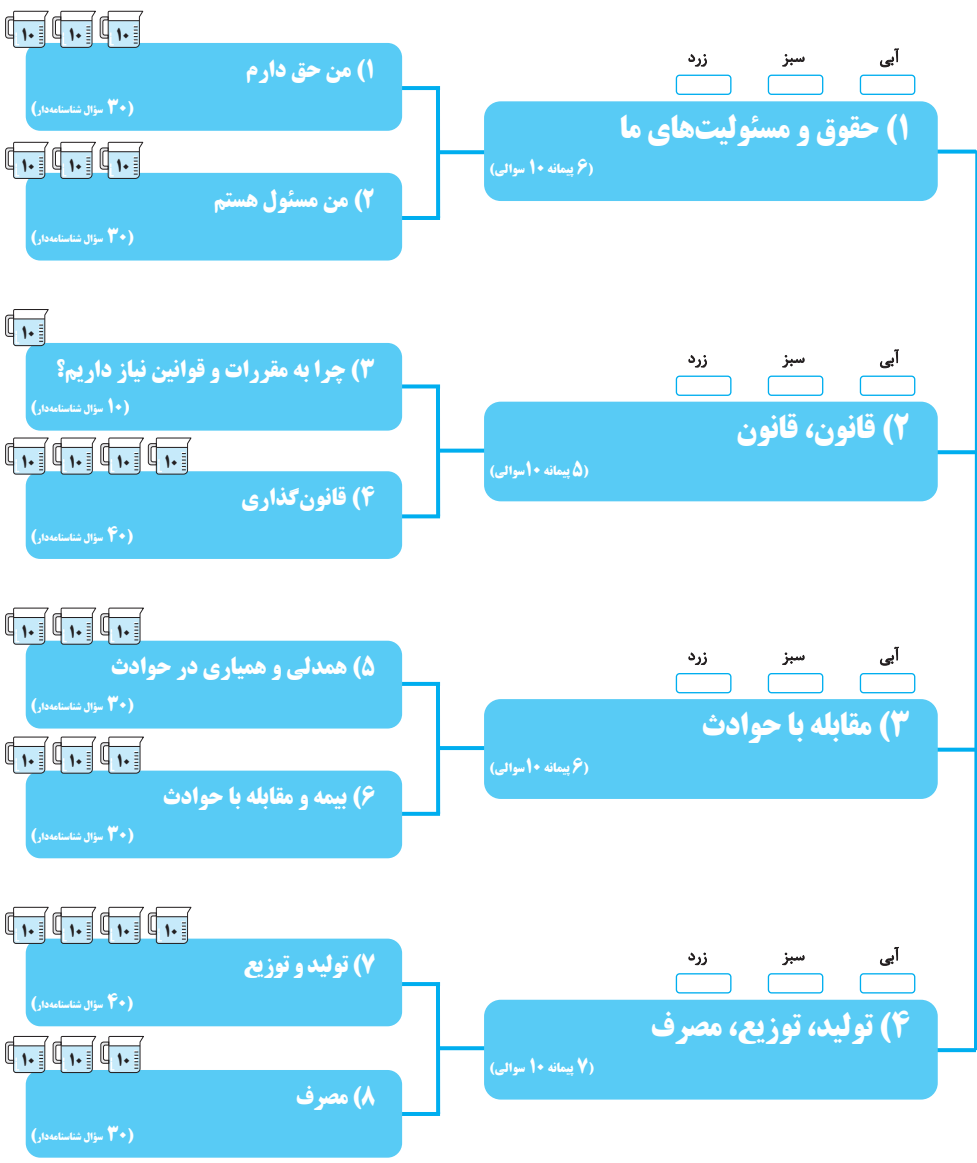
گام اول: میزان تسلط خود را با رنگ مشخص کنید.

آبی: مسلط / سبز: نسبتاً مسلط / زرد: مسلط نیستم

گام های بعدی: اگر در گام اول دانش خود را در حد رنگ زرد ارزیابی کردید اما در نوبت های بعدی پیشرفت کردید، می توانید خانه های سبز یا آبی را رنگ کنید. هر گاه به رنگ ها نگاه کنید متوجه می شوید در کدام قسمت ها نیاز به تمرین بیشتر دارید.



۲۳۵ سؤال شناسنامه دار
و پرتکرار از مدارس سراسر کشور
+
۵ سؤال شناسنامه دار تألیفی از
کتاب درسی



مدنی
(۲۴۰ سؤال شناسنامه دار)



درس ۱

من حق دارم

(صفحه‌های ۲ تا ۵ کتاب درسی)



مرجع

زرتین شهر - نمونه دولتی شهید قجه‌ای (۸ بار تکرار)	(صفحه ۲ کتاب درسی)	۱. جای خالی را با کلمه مناسب کامل کنید. * خداوند با آفرینش انسان به او اعطا کرده است.
سندهج - بصیرت (۱۱ بار تکرار)	(صفحه ۲ کتاب درسی)	۲. جای خالی را با کلمه مناسب کامل کنید. منظور از چیزهایی است که یک انسان به دلیل مقام انسانی‌اش، شایستگی داشتن آن‌ها را دارد.
اهواز - هیأت امنایی فرهنگیان (۱۳ بار تکرار)	(صفحه ۲ کتاب درسی)	۳. چیزهایی که یک انسان به دلیل مقام انسانی‌اش شایستگی داشتن آن‌ها را دارد، چیست؟
اردبیل - غیردولتی پویا (۱۰ بار تکرار)	(صفحه ۲ کتاب درسی)	۴. منظور از حق چیست؟
تهران - غیردولتی فرهنگ و آموزش قلمچی - ۹۵ (۸ بار تکرار)	(صفحه ۲ کتاب درسی)	۵. صحیح یا غلط بودن جمله زیر را مشخص کنید. - منظور از حق چیزهایی است که یک انسان به دلیل مقام انسانی‌اش، شایستگی داشتن آن‌ها را دارد. ص <input type="checkbox"/> غ <input type="checkbox"/>
تهران - غیردولتی فرهنگی و آموزشی قلمچی - ۹۵ (۱۱ بار تکرار)	(صفحه ۲ کتاب درسی)	۶. مهم‌ترین حق همه انسان‌ها یا است.
تألیفی	(صفحه ۲ کتاب درسی)	۷. چرا افراد در روابط با یکدیگر از حقوقی برخوردار می‌شوند؟
تبریز - مشکا: (۱۴ بار تکرار)	(صفحه ۲ کتاب درسی)	۸. گزینه صحیح را انتخاب کنید. مهم‌ترین حق همه انسان‌ها در زندگی چیست؟ ۱) حق حیات یا زندگی ۲) داشتن شناسنامه ۳) تحصیل و شکوفایی استعداد ۴) داشتن محیط سالم

مرجع

فدس- اندیشه نو (۸ بار تکرار)	(صفحه ۲ کتاب درسی)	۹. براساس کدام حق انسان‌ها نباید برده و بنده دیگران باشند؟
تهران- عترت (۱۰ بار تکرار)	(صفحه ۲ کتاب درسی)	۱۰. صحیح یا غلط بودن جمله زیر را مشخص کنید. انسان‌ها حق دارند آزاد باشند، زیرا خداوند آن‌ها را آزاد آفریده است.
		ص <input type="checkbox"/> غ <input type="checkbox"/>

مرجع







سندج- امام شافعی (۱۳ بار تکرار)	(صفحه ۲ کتاب درسی)	۱۱. صحیح یا غلط بودن جمله زیر را مشخص کنید. بعضی از انسان‌ها حق حیات و آزادی دارند.
کرمان- شهید مهدوی (۱۰ بار تکرار)	(صفحه ۲ کتاب درسی)	۱۲. کدام یک از حقوق طبیعی انسان‌ها نیست؟ (۱) حق حیات (۲) داشتن شناسنامه (۳) آزاد بودن و برده نبودن (۴) ازدواج کردن
خرم‌بید- امام حسن (۱۲ بار تکرار)	(صفحه ۲ کتاب درسی)	۱۳. صحیح یا غلط بودن جمله زیر را مشخص کنید. همه انسان‌ها صرف‌نظر از قوم، نژاد، زبان، اعتقادات، ثروت، فقر و ... دارای حقوق طبیعی هستند.
ناکستان- شهید اکبر عبدالمی (۱۴ بار تکرار)	(صفحه ۳ کتاب درسی)	۱۴. هر فرد حق دارد نام و نام‌خانوادگی و شناسنامه داشته باشد. این حق توسط تأمین می‌شود.
		(۱) خانواده (۲) مدرسه (۳) محیط زندگی (۴) مؤسسات
خرم‌بید- امام حسن (۸ بار تکرار)	(صفحه ۳ کتاب درسی)	۱۵. اولین حقی که فرد در خانواده باید از آن برخوردار باشد، کدام است؟ (۱) انتخاب نام خوب (۲) استفاده از خدمات بهداشتی (۳) داشتن محیطی سالم و پاکیزه (۴) تحصیل و شکوفایی
مشهد- حضرت زینب (۱۵ بار تکرار)	(صفحه ۴ کتاب درسی)	۱۶. صحیح یا غلط بودن جمله زیر را مشخص کنید. خانواده تا حدی که فرزند توقع دارد، باید وسایل زندگی او را فراهم کند.
سیاهکل- نارالله (۱۴ بار تکرار)	(صفحه ۴ کتاب درسی)	۱۷. جمله زیر را با کلمه مناسب کامل کنید. خانواده تا حدی که دارد امکانات رفاهی فرزندان را فراهم می‌کند.
فدس- اندیشه نو (۱۵ بار تکرار)	(صفحه ۴ کتاب درسی)	۱۸. درست یا غلط بودن جمله زیر را مشخص کنید. * خانواده تا حدی که توان مالی دارد، وسایل زندگی فرزندان خود را فراهم می‌کند.
اردبیل- غیردولتی جلالت - ۹۵ (۱۳ بار تکرار)	(صفحه‌های ۳ و ۴ کتاب درسی)	۱۹. دو مورد از حقوق افراد را در خانه و خانواده را بنویسید.
قم- طاهباز (۱۱ بار تکرار)	(صفحه‌های ۳ و ۴ کتاب درسی)	۲۰. کدام یک از موارد زیر جزء حقوق افراد در خانه و خانواده است؟ (۱) داشتن نام و نام‌خانوادگی و شناسنامه (۲) زندگی در محیط سالم و پاکیزه (۳) برخورداری از خدمات مناسب پزشکی (۴) داشتن امنیت در کوچه و خیابان

مرجع



شهرضا- غیردولتی افق (۱۳ بار تکرار)	(صفحه ۴ کتاب درسی)	۲۱. مسخره کردن انسان‌ها از نظر گناهی بزرگ است.
اردکان- نمونه دولتی سعدی (۱۴ بار تکرار)	(صفحه‌های ۴ و ۵ کتاب درسی)	۲۲. دو مورد از حقوق هر دانش‌آموز در مدرسه را بنویسید.
شیواز- مهندس خسرو آصف (۱۲ بار تکرار)	(صفحه ۵ کتاب درسی)	۲۳. سه مورد از حقوق افراد را در محیط زندگی و کشور نام ببرید.

مرجع

<p>شیراز - نمونه دولتی شهید صالحی (۱۲ بار تکرار)</p>	<p>۲۴. ۴ صحیح یا غلط بودن جمله زیر را تعیین کنید. همه حق دارند در کوچه و خیابان امنیت داشته باشند. (صفحه ۵ کتاب درسی) ص <input type="checkbox"/> غ <input type="checkbox"/></p>
<p>بجنورد - نمونه دولتی سعدی (۱۴ بار تکرار)</p>	<p>۲۵. ۵ این که «همه حق دارند در کوچه و خیابان امنیت داشته باشند» جزو کدام حقوق است؟ (صفحه ۵ کتاب درسی) ۱) خانواده و خانه ۲) حقوق طبیعی ۳) مدرسه ۴) در محیط زندگی و کشور</p>
<p>عجب‌شیر - محدثه (۱۲ بار تکرار)</p>	<p>۲۶. ۶ با توجه به تصاویر، نمونه‌هایی از حقوق خود در محیط زندگی و کشور را بنویسید. (صفحه ۵ کتاب درسی)</p> <div style="display: flex; justify-content: space-around;"> <div style="text-align: center;">  <p>(۲)</p> </div> <div style="text-align: center;">  <p>(۱)</p> </div> </div>
<p>گوج - مجتمع آموزشی سلاسه - ۹۵ (۹ بار تکرار)</p>	<p>۲۷. ۷ با توجه به تصاویر، نمونه‌هایی از حقوق خود در محیط زندگی و کشور را نام ببرید. (صفحه ۵ کتاب درسی)</p> <div style="display: flex; justify-content: space-around;"> <div style="text-align: center;">  <p>(۲)</p> </div> <div style="text-align: center;">  <p>(۱)</p> </div> </div>
<p>تهران - دبیرستان غیردولتی فرهنگ و آموزش قلمچی - ۹۵ (۱۱ بار تکرار)</p>	<p>۲۸. ۸ کدام گزینه صحیح نیست؟ (صفحه‌های ۳، ۴ و ۵ کتاب درسی) ۱) هر فرد حق داشتن شناسنامه و نام خانوادگی دارد. ۲) همه حق تحصیل، باسوادی و شکوفایی استعداد دارند. ۳) هر فرد حق دارد از محیطی سالم و تمیز برخوردار باشد. ۴) تنبیه بدنی برای تربیت دانش‌آموزان الزامی است.</p>
<p>تألیفی</p>	<p>۲۹. ۹ صحیح یا غلط بودن جمله زیر را تعیین کنید. هیچ کس نمی‌تواند به تنهایی زندگی کند. (صفحه ۲ کتاب درسی) ص <input type="checkbox"/> غ <input type="checkbox"/></p>
<p>تألیفی</p>	<p>۳۰. ۱۰ کدام عبارت نادرست است؟ (صفحه ۵ کتاب درسی) ۱) زندگی در محیط سالم و امن، برای هر انسانی یک حق است. ۲) تنبیه بدنی دانش‌آموزان برای هر معلمي هر زمان که لازم دید، یک حق است. ۳) تحصیل علم و شکوفایی استعدادها برای هر انسانی یک حق است. ۴) برخورداری از توجه پدر و مادر برای فرزندان یک حق است.</p>

درس ۲

من مسئول هستم

(صفحه‌های ۶ تا ۱۱ کتاب درسی)

مرجع

پیمانه ۱ سوال

بیروچند - شهید مطهری - ۹۶ (۸ بار تکرار)	(صفحة ۶ کتاب درسی)	۱ ما در روابطی که با دیگران برقرار می‌کنیم، دارای هستیم. ۲ حقوق متقابل ۳ تکالیف ۴ حقوق یکسان	۳۱. ۱
کاشمر - شهید اسکندری - ۹۵ (۱۰ بار تکرار)	(صفحة ۶ کتاب درسی)	۲ حقوق متقابل یعنی چه؟	۳۲. ۲
خرمبید - امام حسن - ۹۵ (۱۷ بار تکرار)	(صفحة ۶ کتاب درسی)	۳ به وظایفی که هر یک از ما به‌عهده داریم و انتظار می‌رود آن‌ها را انجام دهیم، چه می‌گویند؟ ۲ حقوق طبیعی ۳ مسئولیت ۴ حق	۳۳. ۳
سنندج - بصیرت (۹ بار تکرار)	(صفحة ۶ کتاب درسی)	۴ بین حق و مسئولیت چه رابطه‌ای وجود دارد؟ ۲ حق باید بیشتر باشد. ۳ رابطه‌ای بین آن‌ها وجود ندارد. ۴ تعادل بین آن‌ها باید حفظ شود.	۳۴. ۴
تهران - علامه طباطبایی - ۹۵ (۱۳ بار تکرار)	(صفحة ۶ کتاب درسی)	۵ مسئولیت‌پذیری را تعریف کنید.	۳۵. ۵
اردهیل - غیرانتفاعی سما - ۹۵ (۱۲ بار تکرار)	(صفحة ۶ کتاب درسی)	۶ وقتی فردی وظایف و تکالیف خود را خوب انجام می‌دهد، او فردی (مکلف - مسئولیت‌پذیر) است.	۳۶. ۶

مرجع

<p>تهران - عبرت - ۹۵ (۱۴ بار تکرار)</p>	<p>۳۷. ۷ جای خالی را با کلمه مناسب پر کنید. افراد در نقش‌های مختلف، مختلف دارند.</p>
<p>تهران - غیردولتی فرهنگ و آموزش قلمچی - ۹۵ (۱۲ بار تکرار)</p>	<p>۳۸. ۸ صحیح یا غلط بودن جمله زیر را تعیین کنید. بعضی افراد هیچ مسئولیتی ندارند.</p> <p>ص <input type="checkbox"/> غ <input type="checkbox"/></p>
<p>شبه‌تور - شیخ محمود شبستری (۱۰ بار تکرار)</p>	<p>۳۹. ۹ آقای مسعودی ۴۰ سال سن دارد و پزشک است. او دارای همسر و سه فرزند است. آقای مسعودی در هر یک از نقش‌های زیر چه مسئولیت‌هایی به عهده دارد؟ به‌عنوان پزشک: به‌عنوان پدر:</p>
<p>قم - طاهباز - ۹۶ (۱۴ بار تکرار)</p>	<p>۴۰. ۱۰ پاسخ درست را انتخاب کنید. شکرگزاری یعنی چه؟ (۱) استفاده صحیح از نعمت‌ها (۲) قدر نعمت‌ها را دانستن (۳) به هدر ندادن نعمت‌ها (۴) هر سه گزینه صحیح است.</p>

مرجع



<p>تهریز - مشکاة - ۹۶ (۱۷ بار تکرار)</p>	<p>۴۱. ۱۱ یعنی استفاده صحیح از نعمت‌ها، قدر نعمت‌ها را دانستن و به هدر ندادن آن‌ها. (۱) مسئولیت (۲) حقوق طبیعی (۳) شکر گزار بودن (۴) حق</p>
<p>سیاهکل - نارالله - ۹۵ (۱۳ بار تکرار)</p>	<p>۴۲. ۲ صحیح یا غلط بودن جمله زیر را مشخص کنید. استفاده صحیح از نعمت‌ها و قدر نعمت‌ها را دانستن، شکرگزاری در برابر خداوند است.</p> <p>ص <input type="checkbox"/> غ <input type="checkbox"/></p>
<p>آ سندهج - امام شافعی - ۹۵ (۱۵ بار تکرار)</p>	<p>۴۳. ۳ صحیح یا غلط جمله‌های زیر را مشخص کنید. آ) یکی از مسئولیت‌های مهم من مراقبت از خودم است. ب) هر یک از اعضای بدن مانند یک دستگاه پیچیده و برنامه‌ریزی شده وظایفی را به‌عهده دارد.</p> <p>ص <input type="checkbox"/> غ <input type="checkbox"/></p>
<p>اهواز - شاهد فاطمی - ۹۶ (۱۲ بار تکرار)</p>	<p>۴۴. ۴ به پرسش زیر پاسخ دهید. با انجام چه کارهایی می‌توانیم از بدن خود مراقبت کنیم؟ (۲ مورد)</p>
<p>بندرگز - دبیرستان خلیج فارس - ۹۶ (۱۰ بار تکرار)</p>	<p>۴۵. ۵ «من باید تلاش کنم استعدادهای خودم را بشناسم و آن‌ها را شکوفا کنم و با رعایت بهداشت از بدن خود مراقبت کنم.» این متن مربوط به کدام یک از مسئولیت‌های شما است؟</p>

مرجع






<p>اهواز - هیأت امنای فرهنگیان - ۹۵ (۸ بار تکرار)</p>	<p>۴۶. ۶ پاسخ کامل دهید. در مقابل گزینه‌های زیر (حق) یا (مسئولیت) را مشخص کنید. آ) همکاری در خانه با پدر و مادر ب) برخورداری کودکان از محبت و مراقبت خانواده</p>
<p>بم - نمونه فرزانه - ۹۶ (۱۰ بار تکرار)</p>	<p>۴۷. ۷ دو مورد از مسئولیت‌های خود در خانه را بنویسید.</p>
<p>سیاهکل - نارالله - ۹۵ (۹ بار تکرار)</p>	<p>۴۸. ۸ برای هر یک از موقعیت‌های زیر یک مسئولیت تعیین کنید. آ) من نسبت به خودم: ب) من نسبت به خانواده‌ام:</p>
<p>شاهرویه - نجابت (۱۲ بار تکرار)</p>	<p>۴۹. ۹ شما به‌عنوان دانش‌آموز اگر بخواهید مدرسه موفق و نمونه داشته باشید، چه وظایفی بر عهده دارید؟ (صفحه ۸ کتاب درسی)</p>
<p>تهران - غیردولتی ندای زهرا (س) - ۹۵ (۱۷ بار تکرار)</p>	<p>۵۰. ۱۰ مهرسام ۱۲ سال سن دارد و به همراه پدر، مادر، برادر و خواهر خود در یک آپارتمان زندگی می‌کنند. علیرضا دوست صمیمی او در همسایگی آن‌ها زندگی می‌کند. آن‌ها در پایه هفتم درس می‌خوانند. به نظر شما مهرسام در هر یک از نقش‌های زیر چه مسئولیتی به عهده دارد؟ آ) به‌عنوان فرزند: ب) به‌عنوان دانش‌آموز: پ) به‌عنوان دوست:</p>

مرجع

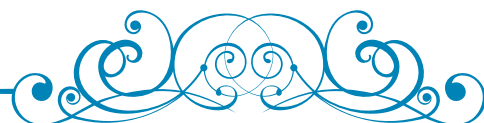


<p>اهواز - معارف صدرا - ۹۶ (۱۷ بار تکرار)</p>	<p>۵۱. ۱ نیایش، دانش‌آموز کلاس چهارم ابتدایی است، او به‌عنوان یک دانش‌آموز و دختر خانواده چه مسئولیتی‌هایی دارد؟ به‌عنوان دانش‌آموز: به‌عنوان دختر خانواده:</p>
<p>کاشمر - شهید اسکندری - ۹۵ (۹ بار تکرار)</p>	<p>۵۲. ۲ دفاع از خون شهیدان جزء کدام یک از مسئولیت‌های ماست؟ ۱) مسئولیت در نزد خدا ۲) مسئولیت نسبت به خود ۳) مسئولیت نسبت به دیگران ۴) مسئولیت نسبت به اعضای جامعه</p>
<p>قم - طاهباز (۱۱ بار تکرار)</p>	<p>۵۳. ۳ «تلاش در جهت آبادانی کشور» جزء کدام یک از مسئولیت‌های ماست؟ ۱) مسئولیت ما در برابر اعضای جامعه ۲) مسئولیت ما در برابر معلمان ۳) مسئولیت ما در برابر خدا ۴) مسئولیت ما در برابر خودمان</p>

مرجع

<p>آ اهواز - شاهد فاطمی - ۹۶ (۱۵ بار تکرار)</p> <p>ب یزد - غیردولتی جوادالانمه - ۹۵ (۱۴ بار تکرار)</p>	<p>۵۴. ۴ صحیح یا غلط بودن جمله‌های زیر را تعیین کنید. (آ) من در برابر کشورم و دیگر مسلمانان مسئولیت دارم. (ب) ما علاوه بر کشورمان در برابر مسلمانان جهان مسئول هستیم.</p> <p>(صفحه ۹ کتاب درسی) ص <input type="checkbox"/> غ <input type="checkbox"/></p> <p>(صفحه ۹ کتاب درسی) ص <input type="checkbox"/> غ <input type="checkbox"/></p>
<p>اردکان - نمونه دولتی سعدی - ۹۵ (۱۲ بار تکرار)</p>	<p>۵۵. ۵ صحیح یا غلط بودن جمله زیر را تعیین کنید. من نسبت به محیط زندگی خود و عالم آفرینش مسئول هستم.</p> <p>(صفحه ۱۱ کتاب درسی) ص <input type="checkbox"/> غ <input type="checkbox"/></p>
<p>تهران - عتروت - ۹۵ (۹ بار تکرار)</p>	<p>۵۶. ۶ گزینه صحیح را انتخاب کنید. «حفظ پاکیزگی و بهداشت در محیط زندگی» بیانگر مسئولیت انسان در برابر چیست؟</p> <p>(۱) خود (۲) خداوند (۳) اعضای خانواده (۴) عالم آفرینش</p> <p>(صفحه ۱۱ کتاب درسی)</p>
<p>اردبیل - غیردولتی جلالت - ۹۵ (۱۴ بار تکرار)</p>	<p>۵۷. ۷ ما نسبت به محیط زندگی خود و عالم آفرینش چه مسئولیتی داریم؟ دو مورد بنویسید.</p> <p>(صفحه ۱۱ کتاب درسی)</p>
<p>اهواز - شاهد فاطمی - ۹۵ (۱۳ بار تکرار)</p>	<p>۵۸. ۸ مفهوم تصویر زیر را بیان کنید.</p> 
<p>تهران - امام حسن عسگری (ع) - ۹۵ (۱۵ بار تکرار)</p>	<p>۵۹. ۹ با توجه به تصاویر پاسخ دهید. شما در برابر چه چیز و چه کسانی مسئول هستید؟</p> <p>(صفحه‌های ۷ تا ۹ و ۱۱ کتاب درسی)</p> <div style="display: flex; justify-content: space-around; align-items: flex-end;"> <div style="text-align: center;">  <p>(۴)</p> <p>.....</p> </div> <div style="text-align: center;">  <p>(۳)</p> <p>.....</p> </div> <div style="text-align: center;">  <p>(۲)</p> <p>.....</p> </div> <div style="text-align: center;">  <p>(۱)</p> <p>.....</p> </div> </div>
<p>اهواز - شاهد فاطمی - ۹۵ (۱۰ بار تکرار)</p>	<p>۶۰. ۱۰ ما در برابر چه چیز و چه کسانی مسئول هستیم؟ (۴ مورد)</p> <p>(صفحه‌های ۷ تا ۹ و ۱۱ کتاب درسی)</p>

درس ۳



چرا به مقررات و قوانین نیاز داریم؟



(صفحه‌های ۱۴ تا ۱۶ کتاب درسی)

مرجع



قدسی - اندیشه نو - ۹۵ (۸ بار تکرار)	(صفحه ۱۴ کتاب درسی)	۱.۶۱ آیا انسان‌ها در استفاده از حقوق خود آزادی مطلق و بی‌قید و شرط دارند؟ چرا؟
		۲.۶۲ صحیح یا غلط بودن جمله‌های زیر را تعیین کنید.
آ) آمل - کوثر - ۹۶ (۱۱ بار تکرار)	(صفحه ۱۴ کتاب درسی)	آ) همه ما در استفاده از حقوق خود، آزادی مطلق و بی‌قید و شرط داریم. <input type="checkbox"/> ص <input type="checkbox"/> غ
ب) قم - طاهراز - ۹۶ (۱۳ بار تکرار)	(صفحه ۱۴ کتاب درسی)	ب) تا آنجا می‌توانیم حق خود را اعمال کنیم که مغایر قانون نباشد. <input type="checkbox"/> ص <input type="checkbox"/> غ
پ) نیاکان - معرفت (۱۰ بار تکرار)	(صفحه ۱۴ کتاب درسی)	پ) ما هر زمان برای به‌دست آوردن حقوق خود می‌توانیم حقوق دیگران را پایمال کنیم. <input type="checkbox"/> ص <input type="checkbox"/> غ
قیروز - مشکاة - ۹۶ (۹ بار تکرار)	(صفحه ۱۴ کتاب درسی)	۳.۶۳ مهم‌ترین دلیل به‌وجود آمدن مقررات و قوانین در جامعه چیست؟

مرجع

<p>تألیفی</p>	<p>۶۴. ۴ برخی می‌گویند انسان‌ها در اعمال خود تا جایی آزادی دارند که آزادی دیگران را محدود نکنند. طبق قوانین حاکم بر کشور ما، این عبارت نادرست است، چرا که انسان‌ها (صفحه ۱۴ کتاب درسی)</p> <p>۱) همواره آزادی مطلق دارند و آزادی دیگران، ایشان را محدود نمی‌کند. ۲) کاملاً در جبر زندگی می‌کنند و مفهوم آزادی برای انسان بی‌اختیار اصلاً معنا ندارد. ۳) تا جایی آزادی دارند که مغایر با قوانین نباشد و این قوانین شامل قوانین الهی هم هست. ۴) از تولد، به شکل طبیعی و ناخودآگاه یاد می‌گیرند حقوق دیگران را همواره رعایت کنند و این قوانین دست‌وپاگیر است.</p>
<p>خوی - نمونه دولتی معلم - ۹۶ (۱۱ بار تکرار)</p>	<p>۶۵. ۵ مکان‌های عمومی مثل کتابخانه‌ها، سینماها، پارک‌ها و مساجد چه مقرراتی دارند؟ (صفحه ۱۶ کتاب درسی)</p> <p>۱) قوانین جاری جامعه ۲) مقررات مخصوص به خود ۳) مقرراتی در چهارچوب قانون اساسی ۴) قواعد اجتماعی که مرسوم است.</p>
<p>خرم‌بید - امام حسن - ۹۵ (۱۴ بار تکرار)</p>	<p>۶۶. ۶ به‌طور کلی قانون و مقررات به چند دلیل به‌وجود آمده است؟ نام ببرید. (صفحه ۱۶ کتاب درسی)</p>
<p>تهران - عترت - ۹۵ (۱۰ بار تکرار)</p>	<p>۶۷. ۷ ایجاد نظم و امنیت و جلوگیری از هرج و مرج به نفع همگان بوده و به نوعی است. (صفحه ۱۶ کتاب درسی)</p>
<p>بجنورد - نمونه دولتی سعدی - ۹۶ (۱۳ بار تکرار)</p>	<p>۶۸. ۸ عدم رعایت قانون، علاوه بر به‌هم زدن امنیت اجتماعی، موجب می‌شود. (صفحه ۱۶ کتاب درسی)</p>
<p>بیم - نمونه دولتی باقرالعلوم - ۹۵ (۱۲ بار تکرار)</p>	<p>۶۹. ۹ کدام یک از موارد زیر از پیامدهای عدم رعایت قوانین در جامعه است؟ (صفحه ۱۶ کتاب درسی)</p> <p>۱) به‌هم خوردن نظم و امنیت ۲) پایمال شدن حقوق افراد ۳) از بین رفتن امنیت اجتماعی ۴) هر سه مورد</p>
<p>تألیفی</p>	<p>۷۰. ۱۰ قانونی که خوب و درست نباشد، الزاماً (صفحه ۱۶ کتاب درسی)</p> <p>۱) در برقراری نظم مقطعی ناتوان است. ۲) باعث برقراری امنیت می‌شود. ۳) باعث حفظ حقوق افراد می‌شود. ۴) در حفظ دائمی حقوق افراد ناتوان است.</p>

درس ۴

قانون گذاری

(صفحه های ۱۷ تا ۱۹ کتاب درسی)



مرجع

۹۵ قزوین - اندیشه نو (۸ بار تکرار)	(صفحه ۱۷ کتاب درسی) ۴) مذهبی و اخلاقی	۱) مذهبی ۲) قانون ۳) اجتماعی چه نوع مقرراتی است؟	۷۱. جمله: «هیچ کس نباید با کفش وارد نمازخانه شود.»
۹۶ سنندج - امام شافعی - (۱۰ بار تکرار)	(صفحه ۱۷ کتاب درسی) ۲) مذهبی - اجتماعی - حکومتی ۴) مذهبی - حکومتی - اجتماعی	۱) اجتماعی - حکومتی - مذهبی ۳) اجتماعی - مذهبی - حکومتی	۷۲. «ایستادن در صف اتوبوس - وارد نشدن با کفش به مسجد - عدم مداوای بیماران بدون داشتن مدرک پزشکی» به ترتیب در کدام یک از هنجارهای زیر قرار می گیرد؟
۹۵ تهران - عترت - (۱۰ بار تکرار)	(صفحه ۱۷ کتاب درسی)		۷۳. به سوال زیر پاسخ کوتاه دهید. به مقرراتی که به وسیله یک نهاد دارای صلاحیت تصویب شود چه می گویند؟
۹۶ تهران - تقوایندگان - (۱۴ بار تکرار)	(صفحه ۱۷ کتاب درسی)		۷۴. هرگاه مقررات توسط مجلس تصویب شود، نام به خود می گیرد.
۹۵ کاشمر - شهید اسکندری - (۹ بار تکرار)	(صفحه ۱۷ کتاب درسی) ۴) اخلاقی	۱) مذهبی ۲) حکومتی (قانون) ۳) اجتماعی	۷۵. ممنوعیت عبور از چراغ قرمز چه نوع مقرراتی است؟
۹۵ تهران - عترت - (۱۱ بار تکرار)	(صفحه ۱۷ کتاب درسی)	۱) رعایت نکردن نوبت در صف پمپ بنزین ۲) توقف وسایل نقلیه پشت چراغ قرمز ۳) ورود موتور سوار به پیاده رو ۴) استفاده از مصالح مناسب در ساختمان سازی	۷۶. کدام یک از موقعیت های زیر مخالف با قوانین حکومتی است؟

مرجع

<p>اردبیل - غیرانتفاعی سما - ۹۵ (۱۷ بار تکرار)</p>	<p>(صفحه ۱۷ کتاب درسی) مقررات بهداشتی مقررات اجتماعی مقررات مذهبی مقررات حکومتی (قانون)</p>	<p>۷۷. عبارات‌های مربوط را به هم وصل کنید. آ) با کفش وارد نمازخانه یا مسجد نمی‌شویم. ب) ایستادن در صف اتوبوس یا نانویی پ) داشتن صلاحیت و مدرک پزشکی برای درمان مردم</p>
<p>تهران - غیردولتی فرهنگ و آموزش قلمچی - ۹۵ (۱۵ بار تکرار)</p>	<p>(صفحه ۱۷ کتاب درسی)</p>	<p>۷۸. ۸ به سوال زیر پاسخ مناسب دهید. مقررات یک جامعه به چند شکل به وجود می‌آیند؟</p>
<p>کاشمر - شهید اسکندری - ۹۵ (۱۴ بار تکرار)</p>	<p>(صفحه ۱۷ کتاب درسی) ص <input type="checkbox"/> غ <input type="checkbox"/></p>	<p>۷۹. ۹ صحیح یا غلط بودن جمله زیر را تعیین کنید. همه افراد در برابر قانون مساوی هستند.</p>
<p>تهران - هیأت امنایی فرهنگیان - ۹۵ (۱۵ بار تکرار)</p>	<p>(صفحه ۱۷ کتاب درسی)</p>	<p>۸۰. ۱۰ پاسخ کوتاه دهید. مهم‌ترین قانون هر کشور چیست؟</p>

مرجع



<p>تهران - غیردولتی ندای زهرا (س) - ۹۵ (۱۳ بار تکرار)</p>	<p>(صفحه ۱۷ کتاب درسی) ص <input type="checkbox"/> غ <input type="checkbox"/></p>	<p>۸۱. ۱ صحیح یا غلط بودن جمله‌های زیر را تعیین کنید. آ) مهم‌ترین قانون هر کشور قانون اساسی آن کشور است.</p>
<p>تهران - امام جعفر صادق (ع) - ۹۵ (۱۵ بار تکرار)</p>	<p>(صفحه ۱۷ کتاب درسی) ص <input type="checkbox"/> غ <input type="checkbox"/></p>	<p>ب) قانون اساسی مادر همه قانون‌ها است.</p>
<p>تهران - امام شافعی - ۹۵ (۱۱ بار تکرار)</p>	<p>(صفحه ۱۷ کتاب درسی) ص <input type="checkbox"/> غ <input type="checkbox"/></p>	<p>پ) در قانون اساسی مهم‌ترین روابط و وظایف حکومت و مردم، معین شده است.</p>
<p>تهران - امام حسن عسگری (ع) - ۹۵ (۱۰ بار تکرار)</p>	<p>(صفحه ۱۷ کتاب درسی)</p>	<p>۸۲. ۲ در قانون اساسی هر کشور چه چیزهایی معین شده است؟</p>
<p>تهران - عترة - ۹۵ (۱۵ بار تکرار)</p>	<p>(صفحه ۱۷ کتاب درسی)</p>	<p>۸۳. ۳ قانون اساسی پس از پیروزی انقلاب توسط کدام نهاد نوشته شد و به تصویب رسید؟</p>
<p>قدس - اندیشه نو - ۹۵ (۱۶ بار تکرار)</p>	<p>(صفحه ۱۷ کتاب درسی) ص <input type="checkbox"/> غ <input type="checkbox"/> (صفحه ۱۸ کتاب درسی) ص <input type="checkbox"/> غ <input type="checkbox"/> (صفحه ۱۸ کتاب درسی) ص <input type="checkbox"/> غ <input type="checkbox"/></p>	<p>۸۴. ۴ صحیح یا غلط بودن جمله‌های زیر را تعیین کنید. آ) پس از پیروزی انقلاب اسلامی، شورای نگهبان برای نوشتن قانون اساسی جمهوری اسلامی ایران تشکیل شد. ب) قانون اساسی ایران در روزهای ۱۱ و ۱۲ آذر ماه ۱۳۵۸ به همه‌پرسی گذاشته شد. پ) قانون اساسی جمهوری اسلامی ایران ۱۶۷ اصل دارد.</p>
<p>تهران - غیردولتی فرهنگ و آموزش قلمچی - ۹۵ (۱۳ بار تکرار)</p>	<p>(صفحه ۱۸ کتاب درسی)</p>	<p>۸۵. ۵ قانون اساسی کشور ما در چه روزهایی به همه‌پرسی گذاشته شد؟</p>
<p>یزد - ریحانه‌نئی (س) - ۹۶ (۱۵ بار تکرار)</p>	<p>(صفحه‌های ۱۷ و ۱۸ کتاب درسی)</p>	<p>۸۶. ۶ قانون اساسی جمهوری اسلامی ایران توسط مجلس نوشته شد. این قانون اصل دارد.</p>
<p>شهرضا - غیردولتی افق - ۹۶ (۱۱ بار تکرار)</p>	<p>(صفحه ۱۸ کتاب درسی) ۱۹۰ (۴) ۱۷۷ (۳) ۱۶۰ (۲) ۱۸۰ (۱)</p>	<p>۸۷. ۷ قانون اساسی جمهوری اسلامی ایران چند اصل دارد؟</p>

مرجع

تهران - غیردولتی فرهنگی و آموزش قلمچی - ۹۵ (۱۲ بار تکرار)	(صفحه ۱۹ کتاب درسی)	۸۸. تهیه و تصویب قوانین عادی کشور برعهده است.
قم - طاهباز - ۹۶ (۱۴ بار تکرار)	(صفحه ۱۹ کتاب درسی)	۸۹. تهیه و تصویب قوانین عادی کشور در چهارچوب قانون اساسی برعهده کدام نهاد است؟ (۱) شورای نگهبان (۲) مجلس خبرگان (۳) قوه مقننه (۴) مجمع تشخیص مصلحت نظام
شوشیه - مختاران - ۹۶ (۱۰ بار تکرار)	(صفحه ۱۹ کتاب درسی)	۹۰. کار اصلی قوه مقننه چیست؟ (۱) اجرای قانون (۲) تهیه و تصویب قوانین عادی کشور (۳) بستن قراردادهای بین المللی (۴) نوشتن قانون اساسی

مرجع



سیاهکل - نارالله - ۹۵ (۹ بار تکرار)	(صفحه ۱۹ کتاب درسی)	۹۱. نمودار مربوط به قوه مقننه را کامل کنید.
روانسر - رجایی - ۹۵ (۱۳ بار تکرار)	(صفحه ۱۹ کتاب درسی)	۹۲. صحیح یا غلط بودن جمله زیر را مشخص کنید. قوه مجریه از دو بخش مجلس شورای اسلامی و شورای نگهبان تشکیل شده است. ص <input type="checkbox"/> غ <input type="checkbox"/>
بیم - نمونه دولتی باقرالعلوم - ۹۵ (۱۵ بار تکرار)	(صفحه ۱۹ کتاب درسی)	۹۳. کدام موارد قوه مقننه را تشکیل می دهند؟ (۱) مجلس شورای اسلامی و مجلس خبرگان (۲) مجلس خبرگان و دولت (۳) شورای نگهبان و مجلس شورای اسلامی (۴) مجلس شورای اسلامی و دولت
یزد - غیردولتی جوادالائمه - ۹۵ (۱۰ بار تکرار)	(صفحه ۱۹ کتاب درسی)	۹۴. جمله زیر را با کلمه های مناسب کامل کنید. نمایندگان مجلس شورای اسلامی منتخب هستند که قوانین را در چهارچوب تهیه و تصویب می کنند.
بیم - نمونه دولتی باقرالعلوم - ۹۵ (۱۵ بار تکرار)	(صفحه ۱۹ کتاب درسی)	۹۵. نمایندگان منتخب مردم در مجلس شورای اسلامی برای چه مدت از سوی مردم انتخاب می شوند؟ (۱) یک دوره چهار ساله (۲) دو دوره متوالی چهار ساله (۳) هشت سال (۴) پنج سال
کاشان - دکتر حسایی - ۹۶ (۹ بار تکرار)	(صفحه ۱۹ کتاب درسی)	۹۶. جاهای خالی را با کلمه های مناسب پر کنید. نمایندگان مجلس شورای اسلامی برای یک دوره ساله از سوی انتخاب می شوند.
اردهیل - غیردولتی جلال - ۹۵ (۸ بار تکرار)	(صفحه ۱۹ کتاب درسی)	۹۷. مجلس شورای اسلامی از چه کسانی تشکیل شده و چه وظایفی دارند؟

مرجع

۹۶ بهبان - فرهنگیان یعقوب بهبهانی - (۱۴ بار تکرار) (صفحه ۱۹ کتاب درسی)	۹۸. ۸ نمایندگان مجلس شورای اسلامی پس از انتخاب شدن، برای شروع کار خود در مجلس می‌کنند.
۹۵ سیاهگل - پروفیسور رضا - (۱۱ بار تکرار)	(صفحه ۱۹ کتاب درسی)	۹۹. ۹ شورای نگهبان مرکب از چند نفر است؟
۹۴ گرمسار - نمونه دولتی شیخ مفید - (۱۷ بار تکرار)	(صفحه ۱۹ کتاب درسی) ص <input type="checkbox"/> غ <input type="checkbox"/> (صفحه ۱۹ کتاب درسی) ص <input type="checkbox"/> غ <input type="checkbox"/>	۱۰۰. ۱۰ صحیح یا غلط بودن جمله‌های زیر را تعیین کنید. آ) تعداد اعضای شورای نگهبان ۱۲ نفر است. ب) فقهای شورای نگهبان از طرف قوه قضائیه انتخاب می‌شوند.

مرجع



۹۴ گرمسار - نمونه دولتی شیخ مفید - (۱۷ بار تکرار)	(صفحه ۱۹ کتاب درسی) ۴ ده نفر	۱۰۱. ۱ شورای نگهبان متشکل از چند قبیله است؟ (۱ شش نفر (۲ هشت نفر (۳ دوازده نفر (۴ ده نفر
۹۵ مشهد - حضرت زینب - (۱۵ بار تکرار)	(صفحه ۱۹ کتاب درسی) ۴ رئیس قوه قضائیه	۱۰۲. ۲ شش نفر فقیه شورای نگهبان از طرف چه کسی انتخاب می‌شوند؟ (۱ رئیس‌جمهور (۲ رهبر (۳ نمایندگان مجلس (۴ رئیس قوه قضائیه
۹۶ کاشان - دکتر حسابی - (۱۳ بار تکرار)	(صفحه ۱۹ کتاب درسی) ۴ مجلس شورای اسلامی	۱۰۳. ۳ حقوقدان‌های شورای نگهبان از طرف معرفی می‌شوند. (۱ رهبر (۲ مجلس خبرگان (۳ قوه قضائیه (۴ مجلس شورای اسلامی
۹۶ سریشه - مختاران - (۱۵ بار تکرار)	(صفحه ۱۹ کتاب درسی)	۱۰۴. ۴ مهم‌ترین وظایف شورای نگهبان را بنویسید.
۹۵ سندج - بصیرت - (۱۲ بار تکرار)	(صفحه ۱۹ کتاب درسی) (صفحه ۱۷ کتاب درسی) (صفحه ۱۹ کتاب درسی)	۱۰۵. ۵ در جمله‌های زیر از دو کلمه داخل پرانتز، دور کلمه درست خط بکشید. آ) ۶ نفر حقوقدان شورای نگهبان توسط (مجلس شورای اسلامی / قوه قضائیه) انتخاب می‌شوند. ب) نمایندگان مجلس خبرگان توسط (مردم / رهبر) انتخاب می‌شوند. پ) ۶ نفر فقیه شورای نگهبان از طرف (رئیس‌جمهور / رهبر) انتخاب می‌شوند.
۹۵ تهران - نمونه دولتی امام خمینی - (۹ بار تکرار)	(صفحه ۱۹ کتاب درسی)	۱۰۶. ۶ هر یک از موارد زیر وظایف کدام بخش است؟ آ) تطبیق قوانین وضع شده با قانون اساسی و احکام اسلامی: ب) تهیه و تصویب قوانین عادی کشور:
۹۶ اردبیل - سما - (۱۱ بار تکرار)	(صفحه ۱۹ کتاب درسی)	۱۰۷. ۷ با توجه به کلمه‌های داخل پرانتز جواب صحیح را انتخاب کنید. نهادی که بر انتخابات ریاست جمهوری نظارت می‌کند. (مجلس شورای اسلامی / شورای نگهبان)
۹۵ گرج - سلاسه - (۱۷ بار تکرار)	(صفحه ۱۹ کتاب درسی)	۱۰۸. ۷ تأیید صلاحیت نامزدهای انتخاباتی بر عهده کدام یک از نهادهای زیر است؟ (۱ مجلس شورای اسلامی (۲ شورای نگهبان (۳ مجلس خبرگان (۴ مجمع تشخیص مصلحت نظام
۹۵ تهران - عترت - (۱۴ بار تکرار)	(صفحه ۱۹ کتاب درسی)	۱۰۹. ۹ کدام مورد درباره شورای نگهبان درست نیست؟ (۱ یکی از دو بخش قوه مقننه است. (۲ بر انتخابات ریاست جمهوری و مجلس شورای اسلامی نظارت می‌کند. (۳ صلاحیت نامزدهای انتخابات را بررسی می‌کند. (۴ در کل از ۶ نفر تشکیل شده است.
تألفی	(صفحه ۱۹ کتاب درسی)	۱۱۰. ۱۰ قانون‌گذاران بر چه اساسی قانون وضع می‌کنند؟

درس ۵

همدلی و همیاری در حوادث

(صفحه‌های ۲۲ تا ۲۵ کتاب درسی)

مرجع



تهران - نمونه دولتی امام خمینی - ۹۵ (۸ بار تکرار)	۱۱۱. ۱ در جای خالی کلمه مناسب قرار دهید. اگر خود را به جای فردی که دچار حادثه شده بگذاریم و احساس و شرایط او را درک کنیم، یعنی با او کرده‌ایم. (صفحه ۲۲ کتاب درسی)
بهبهان - فرهنگیان یعقوب بهبهانی (۱۱ بار تکرار)	۱۱۲. ۲ صحیح یا غلط بودن جمله زیر را تعیین کنید. همدلی یعنی پس از درک احساس فرد حادثه دیده به کمک او بشتابیم. (صفحه ۲۲ کتاب درسی) ص <input type="checkbox"/> غ <input type="checkbox"/>
روانسر - رجایی - ۹۵ (۱۵ بار تکرار)	۱۱۳. ۳ یعنی پس از درک احساس فرد حادثه دیده به کمک او بشتابیم. (صفحه ۲۲ کتاب درسی)
زاهدان - دانش دانشگاه (۹ بار تکرار)	۱۱۴. ۴ عبارت «پس از درک احساس فرد حادثه دیده به کمک او بشتابیم» تعریف کدام واژه است؟ (صفحه ۲۲ کتاب درسی) همیاری (۱) همدردی (۲) همدلی (۳) انسان‌دوستی (۴)
یزد - غیردولتی جوادالائمه - ۹۵ (۱۱ بار تکرار)	۱۱۵. ۵ همدلی و همیاری را تعریف کنید. (صفحه ۲۲ کتاب درسی)

مرجع

<p>قم - شهید سید مهدی برقی (۱۲ بار تکرار)</p>	<table border="1"> <thead> <tr> <th>همدلی</th> <th>همیاری</th> </tr> </thead> <tbody> <tr> <td></td> <td></td> </tr> </tbody> </table>	همدلی	همیاری			<p>۱۱۶. ۶ فرزاد اخبار را در ارتباط با وقوع زلزله در یکی از شهرهای ایران در روزنامه می‌خواند. (صفحه ۲۲ کتاب درسی)</p> <p>آ) خود را به جای مردم آن شهر می‌گذارد. ب) با درک احساسات و شرایط آن‌ها غمگین و ناراحت می‌شود. پ) به مسجد محل رفته تا پتو و کنسروی را که مادرش داده، برای اهدا به زلزله‌زدگان بدهد. کدام‌یک از موارد بالا جزء همدلی و کدام‌یک جزء همیاری محسوب می‌شود؟</p>
همدلی	همیاری					
<p>مشهد - حضرت زینب - ۹۵ (۱۲ بار تکرار)</p>		<p>۱۱۷. ۷ مریم اخبار را در ارتباط با وقوع سیل در یکی از شهرهای ایران می‌خواند. (صفحه ۲۲ کتاب درسی)</p> <p>آ) خود را به جای مردم آن شهر می‌گذارد. (.....) ب) با درک احساسات و شرایط آن‌ها غمگین می‌شود. (.....) پ) پتو و لباس‌هایی را که مادرش برای اهدا به سیل‌زدگان تهیه کرده به پایگاه جمع‌آوری کمک تحویل می‌دهد. (.....) ت) پدرش که یکی از اعضای جمعیت هلال احمر است به منطقه زلزله‌زده جهت کمک می‌رود. (.....) کدام‌یک از موارد بالا جزء همدلی و کدام‌یک جزء همیاری محسوب می‌شود؟</p>				
<p>آ) رضوان‌شهر - شهید بهشتی - ۹۶ (۱۱ بار تکرار)</p> <p>ب) اردبیل - غیرانتفاعی سما - ۹۶ (۱۲ بار تکرار)</p>	<p>(صفحه ۲۳ کتاب درسی)</p> <p>ص <input type="checkbox"/> غ <input type="checkbox"/></p> <p>(صفحه ۲۳ کتاب درسی)</p> <p>ص <input type="checkbox"/> غ <input type="checkbox"/></p>	<p>۱۱۸. ۸ صحیح یا غلط بودن جمله زیر را تعیین کنید.</p> <p>آ) خداوند همدلی و انسان‌دوستی را در سرشت ما انسان‌ها قرار داده است. ب) تنها هنگام حوادث بزرگ باید به یاری یکدیگر بشتابیم.</p>				
<p>سندج - بصیرت - ۹۵ (۷ بار تکرار)</p>	<p>(صفحه ۲۳ کتاب درسی)</p>	<p>۱۱۹. ۹ با توجه به مطالبی که در درس همدلی و همیاری در حوادث آموخته‌اید، جمله زیر را ادامه دهید و آن را کامل کنید.</p> <p>ما در هنگام حوادث فقط به یاری هموطنان خود نمی‌شتابیم، بلکه (با ذکر مثال)</p>				
<p>سمنان - باقرالعلوم - ۹۶ (۹ بار تکرار)</p>	<p>(صفحه ۲۳ کتاب درسی)</p> <p>۲) جان همه دینداران را نجات داده است. ۴) جان همه موجودات را نجات داده است.</p>	<p>۱۲۰. ۱۰ قرآن کریم می‌فرماید: هر کس جان یک نفر را نجات دهد، مانند این است که ۱) جان همه مسلمانان را نجات داده است. ۳) جان همه مردم را نجات داده است.</p>				

مرجع



<p>بجنورد - نمونه دولتی حافظیه - ۹۵ (۱۳ بار تکرار)</p>	<p>(صفحه ۲۳ کتاب درسی)</p>	<p>۱۲۱. ۱ امام رضا (ع) در مورد همدلی با مؤمنان چه فرمودند؟</p>
<p>شیراز - شیخ محمود شبستری (۱۴ بار تکرار)</p>	<p>(صفحه ۲۳ کتاب درسی)</p> <p>ص <input type="checkbox"/> غ <input type="checkbox"/></p>	<p>۱۲۲. ۲ صحیح یا غلط بودن جمله زیر را تعیین کنید.</p> <p>امروزه با گسترش وسایل ارتباطی و حمل و نقل همه نمی‌توانند از اخبار حوادث آگاه شوند. (صفحه ۲۳ کتاب درسی)</p>

مرجع

<p>تهران - عترت - ۹۵ (۱۳ بار تکرار)</p>	<p>۱۲۳. ۳. امروزه چه عاملی موجب انتقال سریع اخبار حوادث در مناطق مختلف می‌شود؟ (صفحه ۲۳ کتاب درسی)</p> <p>(۱) گسترش شهرنشینی (۲) گسترش وسایل ارتباط جمعی (۳) افزایش تعداد مؤسسات (۴) افزایش جمعیت</p>
<p>تهران - غیردولتی فرهنگ و آموزش قلمچی - ۹۵ (۱۶ بار تکرار)</p>	<p>۱۲۴. ۴. چرا امروزه همه به سرعت می‌توانند از اخبار حوادث در مناطق مختلف آگاه شوند؟ (صفحه ۲۳ کتاب درسی)</p>
<p>زرتین شهر - نمونه دولتی شهید قجه‌ای - ۹۵ (۸ بار تکرار)</p>	<p>۱۲۵. ۵. گسترش وسایل ارتباطی چه تأثیری بر همیاری داشته است؟ (صفحه ۲۳ کتاب درسی)</p>
<p>اهواز - شاهد فاطمی - ۹۶ (۱۴ بار تکرار)</p>	<p>۱۲۶. ۶. صحیح یا غلط بودن جمله زیر را تعیین کنید. امروزه، همیاری و همدلی موجب به‌وجود آمدن وزارت‌خانه‌های مختلفی شده است. ص □ غ □</p>
<p>معرفت - تبادگان - ۹۵ (۱۵ بار تکرار)</p>	<p>۱۲۷. ۷. «کمک به آسیب‌دیدگان در زمان حوادث طبیعی» از وظایف کدام مؤسسه است؟ (صفحه ۲۴ کتاب درسی)</p> <p>(۱) بیمه (۲) هلال احمر (۳) محیط زیست (۴) شهرداری</p>
<p>اصفهان - غیردولتی دکتر محمد شفیعی - ۹۶ (۱۱ بار تکرار)</p>	<p>۱۲۸. ۸. کدام مؤسسات اجتماعی در حوادث به ما کمک می‌کنند؟ چهار مورد نام ببرید. (صفحه ۲۴ کتاب درسی)</p>
<p>کاشمر - شهید اسکندری - ۹۵ (۱۰ بار تکرار)</p>	<p>۱۲۹. ۹. کدام مؤسسه اجتماعی در هنگام حوادث به ما کمک می‌کند؟ (صفحه ۲۴ کتاب درسی)</p> <p>(۱) هلال احمر (۲) آتش نشانی (۳) اورژانس (۴) همهٔ موارد</p>
<p>تهران - عترت - ۹۵ (۸ بار تکرار)</p>	<p>۱۳۰. ۱۰. کدام یک از مؤسسات زیر با هدف همیاری به‌وجود نیامده است؟ (صفحه ۲۴ کتاب درسی)</p> <p>(۱) شهرداری (۲) آتش نشانی (۳) هلال احمر (۴) اورژانس</p>

مرجع



<p>اردکان - نمونه دولتی اردکان - ۹۵ (۱۲ بار تکرار)</p>	<p>۱۳۱. ۱. جمعیت هلال احمر چه مؤسسه‌ای است؟ (صفحه ۲۴ کتاب درسی)</p>
<p>بجنورد - نمونه دولتی سعدی - ۹۵ (۹ بار تکرار)</p>	<p>۱۳۲. ۲. صحیح یا غلط بودن جمله‌های زیر را تعیین کنید. آ) مؤسسه‌ای که در هنگام وقوع حوادث طبیعی و جنگ به کمک ما می‌شتابد، هلال احمر است. (صفحه ۲۴ کتاب درسی)</p> <p>ص □ غ □</p>
<p>شیراز - شیخ محمود شبستری - ۹۵ (۱۱ بار تکرار)</p>	<p>ب) مأموران آتش نشانی در هنگام وقوع حوادث به مجروحین کمک‌های اولیه می‌رسانند. (صفحه ۲۴ کتاب درسی)</p> <p>ص □ غ □</p>

مرجع

۹۶ - قم - برقی - شهید سیدمهدی - ۹۶ (۹ بار تکرار)	(صفحة ۲۴ کتاب درسی)	۱۳۳. هدف اصلی از تشکیل سازمان هلال احمر چیست؟
۹۵ - گوج - مجتمع آموزشی سلاسه - ۹۵ (۱۳ بار تکرار)	(صفحة ۲۴ کتاب درسی)	۱۳۴. علامت زیر چه مؤسسه‌ای را به شما معرفی می‌کند؟ دو مورد از وظایف این مؤسسه را بنویسید.
		
۹۶ - بم - نمونه فرزانه - ۹۶ (۳ بار تکرار)	(صفحة ۲۴ کتاب درسی)	۱۳۵. در دی ماه ۱۳۸۲ زلزله‌ای در شهرستان بم اتفاق افتاد. سازمان هلال احمر برای زلزله‌زدگان چه اقداماتی انجام داد؟ (دو مورد)
۹۵ - تهران - عترت - ۹۵ (۹ بار تکرار)	(صفحة ۲۴ کتاب درسی)	۱۳۶. صحیح یا غلط بودن جمله زیر را تعیین کنید. جمعیت هلال احمر تنها در هنگام وقوع حوادث ناگوار فعالیت می‌کند.
	ص <input type="checkbox"/> غ <input type="checkbox"/>	
۹۶ - جهرم - نمونه دولتی البرز - ۹۶ (۱۰ بار تکرار)	(صفحة ۲۴ کتاب درسی)	۱۳۷. جمعیت هلال احمر در شرایط عادی در چه زمینه‌هایی، تلاش می‌کند؟
۹۶ - سمنان - باقرالعلوم - ۹۶ (۱۴ بار تکرار)	(صفحة ۲۴ کتاب درسی)	۱۳۸. جمعیت هلال احمر در شرایط عادی (۱) برای صلح و دوستی تلاش می‌کند. (۲) برای حفظ محیط‌زیست تلاش می‌کند. (۳) به مجروحین، کمک‌های اولیه می‌رساند. (۴) گزینه‌های ۱ و ۲
۹۵ - خرم‌بید - امام حسن - ۹۵ (۱۱ بار تکرار)	(صفحة ۲۴ کتاب درسی)	۱۳۹. جای خالی را با کلمه مناسب پر کنید. جمعیت هلال احمر بخشی به نام دارد.
۹۶ - جهرم - نمونه دولتی البرز - ۹۶ (۱۰ بار تکرار)	(صفحة ۲۴ کتاب درسی)	۱۴۰. کدام گزینه از خدمات جمعیت هلال احمر نیست؟ (۱) کمک‌رسانی به آسیب‌دیدگان (۲) برقراری نظم و امنیت (۳) تلاش در جهت صلح و دوستی (۴) تلاش برای حفظ محیط‌زیست

درس ۹



بیمه و مقابله با حوادث



(صفحه‌های ۲۶ تا ۲۹ کتاب درسی)

مرجع



رضوان‌شهر - شهید بهشتی - ۹۶ (۸ بار تکرار)	(صفحة ۲۶ کتاب درسی)	۱۴۱. ۱ بیمه دانش‌آموزی چه فایده‌ای دارد؟
زرنديه - عترة - ۹۵ (۱۲ بار تکرار)	(صفحة ۲۶ کتاب درسی)	۱۴۲. ۲ صحیح یا غلط بودن جمله زیر را تعیین کنید. در بیمه دانش‌آموزی شما بیمه‌گر هستید.
روانسر - رجایی - ۹۵ (۱۴ بار تکرار)	(صفحة ۲۶ کتاب درسی)	۱۴۳. ۳ مؤسسه‌ای که افراد را بیمه می‌کند، نامیده می‌شود.
چهرم - نمونه دولتی البرز - ۹۶ (۴ بار تکرار)	(صفحة ۲۶ کتاب درسی)	۱۴۴. ۴ به سؤال زیر جواب کامل دهید. آقای کریمی برای بیمه اتومبیلش به یک شرکت بیمه مراجعه کرده است. در این مثال بیمه‌شونده و بیمه‌گر را مشخص کنید.
ساری - ابوریحان - ۹۶ (۱۰ بار تکرار)	(صفحة ۲۷ کتاب درسی)	۱۴۵. ۵ خانواده‌ها برای جبران خسارت‌های ناشی از سیل و آتش‌سوزی و ... در محل زندگی خود چه باید بکنند؟
خوی - نمونه دولتی معلم - ۹۶ (۱۲ بار تکرار)	(صفحة ۲۷ کتاب درسی)	۱۴۶. ۶ مؤسسه بیمه برای جبران زیان‌های به‌وجود آمده است.

مرجع

<p>سنندج- امام شافعی (۱۵ بار تکرار)</p>	<p>۱۴۷. صحیح یا غلط بودن جمله زیر را تعیین کنید. مؤسسه بیمه فقط برای جبران زیان‌های مالی به وجود آمده است. (صفحه ۲۷ کتاب درسی)</p> <p>ص <input type="checkbox"/> غ <input type="checkbox"/></p>
<p>تهران- غیردولتی ندای زهرا (س)- ۹۵ (۱۳ بار تکرار)</p>	<p>۱۴۸. علت به وجود آمدن مؤسسه بیمه چیست؟ (۱) همدلی (۲) تولید (۳) جبران زیان‌های جانی و مالی (۴) کشاورزی (صفحه ۲۷ کتاب درسی)</p>
<p>تهران- علامه طباطبایی- ۹۵ (۱۵ بار تکرار)</p>	<p>۱۴۹. از میان گزینه‌های زیر گزینه صحیح را انتخاب کنید. کدام یک از مؤسسات زیر برای جبران خسارت‌های مالی و جانی به وجود آمده است؟ (۱) سازمان آتش‌نشانی (۲) بیمه (۳) جمعیت هلال‌احمر (۴) اورژانس (صفحه ۲۷ کتاب درسی)</p>
<p>شهرضا- غیردولتی افق (۱۵ بار تکرار)</p>	<p>۱۵۰. بیمه چیست؟ (صفحه ۲۷ کتاب درسی)</p>

مرجع



<p>اهواز- هیأت امنایی فرهنگیان- ۹۵ (۱۴ بار تکرار)</p>	<p>۱۵۱. بیمه یک قرارداد بین بیمه‌گر و است. (صفحه ۲۷ کتاب درسی)</p>
<p>تهران- عترت (۹ بار تکرار) زاهدان- دانشگاه زاهدان- ۹۵ (۱۳ بار تکرار)</p>	<p>۱۵۲. صحیح یا غلط بودن جمله‌های زیر را تعیین کنید. آ) مؤسسه بیمه‌گر، خسارت‌های ناشی از حوادث معینی را جبران می‌کند، نه همه حوادث را. ب) در کشور ما همه مؤسسات بیمه زیر نظر بیمه مرکزی فعالیت می‌کنند. ص <input type="checkbox"/> غ <input type="checkbox"/> ص <input type="checkbox"/> غ <input type="checkbox"/> (صفحه ۲۷ کتاب درسی)</p>
<p>تاکستان- شهید موسی طاهرخانی- ۹۶ (۱۳ بار تکرار)</p>	<p>۱۵۳. تمامی مؤسسات بیمه در کشور ما زیر نظر فعالیت می‌کنند. (صفحه ۲۷ کتاب درسی)</p>
<p>تهران- امام حسن عسگری (ع)- ۹۵ (۱۲ بار تکرار)</p>	<p>۱۵۴. وظیفه بیمه مرکزی ایران چیست؟ (صفحه ۲۷ کتاب درسی)</p>
<p>کاشمر- شهید اسکندری- ۹۵ (۱۴ بار تکرار)</p>	<p>۱۵۵. علامت زیر متعلق به کدام مؤسسه است؟ (صفحه ۲۷ کتاب درسی)</p>  <p>.....</p>

مرجع

<p>سمان - باقرالعلوم - ۹۶ (۸ بار تکرار)</p>	<p>۱۵۶. ۶ چه تعداد از موارد زیر در مورد بیمه صحیح است؟ (آ) بیمه، یک نوع قرارداد است. (ب) در کشور ما، مؤسسات مختلفی برای بیمه به وجود آمده است. (پ) مؤسسه بیمه گر تعهد می کند در قبال دریافت حق بیمه از بیمه شونده، هر نوع خسارت از هر حادثه‌ای را جبران کند. (ت) بیمه انواع مختلفی دارد که بعضی، اجباری و بعضی، اختیاری است. (۱) صفر (۲) ۳ (۳) ۴ (۴) ۲</p>
<p>کاشمر - شهید اسکندری - ۹۵ (۱۰ بار تکرار)</p>	<p>۱۵۷. ۷ اگر فردی داوطلب شود که برای آتش‌سوزی خانه خود را بیمه کند، این بیمه از نوع خواهد بود. (صفحه ۲۷ کتاب درسی)</p>
<p>شبهستر - شیخ محمود شبستری - ۹۵ (۱۳ بار تکرار)</p>	<p>۱۵۸. ۸ بعضی از بیمه‌ها هستند، یعنی طبق قانون افراد باید این بیمه‌ها را انجام دهند. بعضی دیگر از بیمه‌ها هستند و افراد داوطلب می‌شوند که برای حوادث احتمالی از بیمه استفاده کنند. (صفحه ۲۷ کتاب درسی)</p>
<p>اردبیل - غیردولتی جلالت - ۹۵ (۱۵ بار تکرار)</p>	<p>۱۵۹. ۹ انواع بیمه را نام برده و یکی را به اختیار تعریف کنید. (صفحه ۲۷ کتاب درسی)</p>
<p>تهران - عترت - ۹۵ (۱۱ بار تکرار)</p>	<p>۱۶۰. ۱۰ بیمه از نظر انواع مختلفی دارد، مانند بیمه آتش‌سوزی، بیمه عمر. (۱) نوع خدمات (۲) سقف قرارداد (۳) هزینه بیمه (۴) قوانین بیمه</p>

مرجع



<p>خرم‌بید - امام حسن - ۹۵ (۱۵ بار تکرار)</p>	<p>۱۶۱. ۱ بیمه‌ها از نظر خدماتی که به بیمه‌شوندگان ارائه می‌کنند، انواع مختلفی دارند. ۴ نمونه را نام ببرید. (صفحه ۲۷ کتاب درسی)</p>
<p>یزد - غیردولتی حوادثنامه - ۹۵ (۹ بار تکرار)</p>	<p>۱۶۲. ۲ کدام یک از بیمه‌های زیر اجباری است؟ (۱) آتش‌سوزی (۲) سرقت (۳) عمر (۴) اتومبیل</p>
<p>سیاهکل - نارالله - ۹۵ (۱۴ بار تکرار)</p>	<p>۱۶۳. ۳ صحیح یا غلط بودن جمله زیر را تعیین کنید. طبق قانون، بیمه وسایل نقلیه از بیمه‌های اجباری نیست. ص □ غ □</p>
<p>تهران - عترت - ۹۵ (۸ بار تکرار)</p>	<p>۱۶۴. ۴ طبق قانون، همه دارندگان وسایل نقلیه موتوری، باید خودروی خود را برای حوادث جانی و مالی ناشی از تصادف بیمه کنند. (صفحه ۲۸ کتاب درسی)</p>

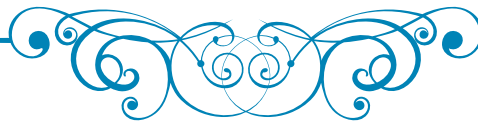
مرجع

<p>تبریز - مشکاة - ۹۶ (۱۰ بار تکرار)</p>	<p>۱۶۵. صحیح یا غلط بودن جمله زیر را تعیین کنید. طبق قانون کلیه سازمان‌ها و شرکت‌ها وظیفه دارند همه کارمندان و کارگران خود را در مقابل حوادث، بیمه کنند. (صفحه ۲۸ کتاب درسی) ص <input type="checkbox"/> غ <input type="checkbox"/></p>
<p>قم - طاهار - ۹۵ (۹ بار تکرار)</p>	<p>۱۶۶. طبق قانون کلیه سازمان‌ها، شرکت‌ها و کارفرمایان باید کارمندان و کارگران خود را در مقابل چه رویدادی بیمه کنند؟ (صفحه ۲۸ کتاب درسی)</p>
<p>قدس - اندیشه نو - ۹۵ (۱۵ بار تکرار)</p>	<p>۱۶۷. دو مورد از قوانین مربوط به بیمه کشور را توضیح دهید. (صفحه ۲۸ کتاب درسی)</p>
<p>شبهسور - شیخ محمد شبستری - ۹۵ (۱۲ بار تکرار)</p>	<p>۱۶۸. بیمه بهداشت و درمان چه فایده‌ای دارد؟ (صفحه ۲۸ کتاب درسی)</p>
<p>بجنورد - نمونه دولتی سعدی - ۹۵ (۱۰ بار تکرار)</p>	<p>۱۶۹. داشتن دفترچه بیمه درمان مربوط به کدام یک از انواع بیمه‌هاست؟ (۱) بیمه عمر (۲) بیمه بیکاری (۳) بیمه از کار افتادگی (۴) بیمه بهداشت و درمان</p>
<p>اهواز - امام جعفر صادق (ع) - ۹۵ (۱۰ بار تکرار)</p>	<p>۱۷۰. کدام یک از موارد زیر جزو بیمه‌های اختیاری محسوب می‌شود؟ (۱) بیمه اتومبیل (۲) بیمه منازل مسکونی (۳) بیمه شخص ثالث (۴) بیمه دانش‌آموزی</p>

درس ۷



تولید و توزیع







(صفحه‌های ۳۲ تا ۳۶ کتاب درسی)



مرجع

تهران - تقوایبشگان - ۹۶ (۱۴ بار تکرار)	(صفحه ۳۲ کتاب درسی)	۱.۱۷۱ تولید محصول به منظور صورت می‌گیرد.
بجنورد - نمونه دولتی حافظیه - ۹۵ (۱۶ بار تکرار)	(صفحه ۳۲ کتاب درسی)	۲.۱۷۲ طبق کتاب درسی، تولید یک محصول به چه منظور انجام می‌شود؟
تهران - دبیرستان غیردولتی فرهنگ - ۹۵ (۱۳ بار تکرار)	(صفحه ۳۲ کتاب درسی)	۳.۱۷۳ پاسخ صحیح را انتخاب کنید. تولید محصول به دو شکل صورت می‌پذیرد. (۱) کالا و سرمایه (۲) کالا و خدمات (۳) ثروت و تلاش (۴) خدمات و سرمایه
اصفهان - غیردولتی دکتر محمد شفیعی (۱۴ بار تکرار)	(صفحه ۳۲ کتاب درسی)	۴.۱۷۴ محصولی که تولید می‌شود به چه منظور است و شامل چند بخش می‌شود؟
اهواز - هیأت امنایی فرهنگیان - ۹۵ (۱۰ بار تکرار)	(صفحه ۳۲ کتاب درسی)	۵.۱۷۵ موارد زیر کدام «کالا» و کدام «خدمات» است؟ آ) یخچال: ب) حمل و نقل:
سیاهکل - نارالله (۷ بار تکرار)	(صفحه ۳۲ کتاب درسی)	۶.۱۷۶ پدر طاهر صبح یک روز بارانی سوار تاکسی شد و پس از پرداخت کرایه به راننده، جلوی شرکت بیمه پیاده شد و اتومبیل خود را بیمه کرد. سپس از شرکت بیمه بیرون آمد و کمی جلوتر رفته و یک چتر خرید. همچنین موقع برگشت به منزل یک عطر به‌عنوان هدیه برای همسرش خریداری نمود. در متن بالا کالاها و خدمات استفاده شده را مشخص کنید و بنویسید. (از هر کدام ۲ مورد) کالا: خدمات:

مرجع

<p>کاشمر - شهید اسکندری - ۹۵ (۱۲ بار تکرار)</p>	<p>(صفحه ۳۲ کتاب درسی)</p>  <p>ت:</p>	<p>کالا و کدام یک خدمات هستند؟</p>  <p>پ:</p>	<p>ب:</p> 	<p>الف:</p> 
<p>بجنورد - نمونه دولتی حافظیه - ۹۵ (۱۷ بار تکرار)</p>	<p>(صفحه‌های ۳۲ و ۳۳ کتاب درسی)</p>	<p>۱۲۸. عوامل مؤثر در تولید را نام ببرید.</p>		
<p>قم - شهید سیدمهدی برقی (۱۳ بار تکرار)</p>	<p>(صفحه‌های ۳۲ و ۳۳ کتاب درسی)</p>	<p>۱۲۹. گزینه صحیح را مشخص کنید. کدام یک از موارد زیر از عوامل تولید محسوب نمی‌شوند؟ (۱) منابع طبیعی (۲) سرمایه (۳) مصرف (۴) نیروی انسانی</p>		
<p>قم - شهید سید مهدی برقی (۱۶ بار تکرار)</p>	<p>(صفحه‌های ۳۲ و ۳۳ کتاب درسی)</p>	<p>۱۸۰. جاهای خالی را با کلمه‌های مناسب پر کنید. عوامل تولید } سرمایه</p>		

مرجع



<p>اهواز - ۲۲ بهمن - ۹۶ (۱۲ بار تکرار)</p>	<p>(صفحه‌های ۳۲ و ۳۳ کتاب درسی)</p>	<p>۱۸۱. منابع طبیعی چگونه از عوامل تولید به شمار می‌رود؟ توضیح دهید.</p>		
<p>آمل - داعی‌الاسلام (۱۰ بار تکرار)</p>	<p>(صفحه‌های ۳۲ و ۳۳ کتاب درسی)</p>	<p>۱۸۲. کدام مورد زیر جزء منابع طبیعی محسوب نمی‌شود؟ (۱) جنگل (۲) معادن (۳) زمین (۴) آب</p>		
<p>قدس - اندیشه نو - ۹۵ (۱۵ بار تکرار)</p>	<p>(صفحه ۳۳ کتاب درسی)</p>	<p>۱۸۳. سرمایه چیست و چه چیزهایی شامل سرمایه می‌شود؟</p>		
<p>بم - نمونه دولتی باقرالعلوم - ۹۵ (۹ بار تکرار)</p>	<p>(صفحه ۳۳ کتاب درسی)</p>	<p>۱۸۴. کدام یک از موارد زیر سرمایه محسوب نمی‌شوند؟ (۱) ماشین‌آلات (۲) ابزار کار (۳) زمین یا ساختمان (۴) معادن</p>		
<p>زرن شهر - نمونه دولتی شهید قجه‌ای - ۹۵ (۱۱ بار تکرار)</p>	<p>(صفحه ۳۳ کتاب درسی)</p>	<p>۱۸۵. طبق کتاب درسی کدام یک از عوامل تولید بسیار مهم است؟ (۱) سرمایه (۲) منابع طبیعی (۳) نیروی انسانی (۴) همه موارد</p>		
<p>شیراز - شیخ محمود شبستری - ۹۵ (۱۳ بار تکرار)</p>	<p>(صفحه ۳۳ کتاب درسی)</p>	<p>۱۸۶. عامل نیروی انسانی را در تولید توضیح دهید.</p>		
<p>بم - نمونه دولتی باقرالعلوم - ۹۵ (۱۴ بار تکرار)</p>	<p>(صفحه ۳۳ کتاب درسی)</p>	<p>۱۸۷. چرا در بین عوامل تولید، نیروی انسانی اهمیت بیش‌تری دارد؟</p>		